

Всероссийская олимпиада по технологии.
Номинация «Культура дома и декоративно-прикладное творчество»
Школьный этап - 7 класс
Теоретические задания
Кулинария

1. Как называется блюдо русской кухни, суп на крутом мясном, рыбном или грибном бульоне с острыми приправами?

Ответ

2. Какой из видов обработки продуктов не относится к тепловой?

Обведите номер верного ответа.

- 1) пассерование; 3) припускание;
2) засахаривание; 4) бланширование

3. Внимательно изучите рисунок сервировки стола. Для какого приема пищи выполнена сервировка?

Ответ: _____



Материаловедение

4. Составьте буквы в правильном порядке, расшифруйте слово, получите свойство ткани, характеризующее возможность выпадения нитей из открытых срезов.

– п е ь ы а о с с т м о

Ответ: _____

Машиноведение

5. Прочитайте текст, в котором пропущены некоторые термины. Выберите из пронумерованного списка термины, которые необходимо вставить на место пропусков, обозначенных буквами А-В. Вставьте на место пропусков термины из списка. Цифры, соответствующие каждому из терминов запишите в таблицу под соответствующими буквами. Одно из условий качественной работы швейной машины — правильная установка иглы. Она должна быть вставлена в _____ (А) иглодержателя на игловодителе до упора, обращена длинным желобком в сторону _____ (Б) на иглодержателе и прочно закреплена _____ (В) иглодержателя. Положение иглы должно быть чётко зафиксировано, так как любое изменение положения приводит к её поломке и снижению качества строчки.

Список терминов:

- | | |
|----------|--------------------|
| 1) винт | 4) острие иглы |
| 2) колба | 5) стержень |
| 3) муфта | 6) нитенаправитель |

а	б	в

6. Продолжите предложение.

Ежедневную уборку помещения следует начинать с

7. Расположите этапы процесса проектирования изделий в правильной последовательности. Запишите в таблицу получившуюся последовательность букв.


- А) конструкторско – технологический.
- Б) заключительный.
- В) поисково – исследовательский.

Ответ:

--	--	--

8. Прочитайте внимательно текст. По описанию модели шорт предложите вариант шва для обработки низа шорт тесьмой. Зарисуйте схему шва

Шорты прямые, свободной формы с притачным поясом. По линии талии на передних половинках шорт имеются две мягкие складки. Шорты выполнены из тонкой шерстяной ткани, по низу отделаны тесьмой.



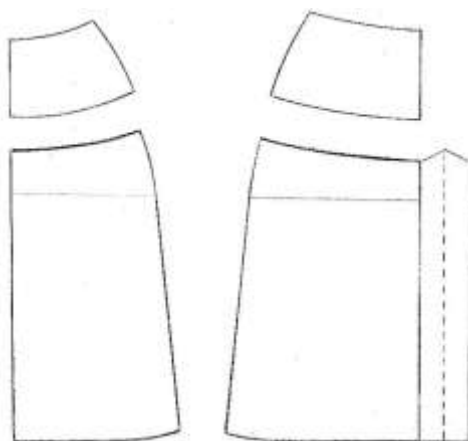
9. Как называется кружево, фрагмент которого показан на рисунке?

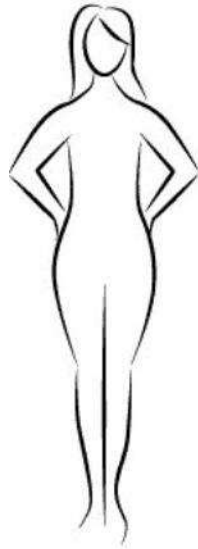

Ответ _____



10. Творческое задание. Вам предложены детали края юбки.

1. Стрелками укажите направление нити основы;
2. Выполните эскиз изделия, согласно деталям края (вид спереди и вид сзади);
3. Предложите вариант декоративного оформления (отделки) юбки.



Эскиз	
Вид спереди	Вид сзади
	

Описание модели:

Назначение _____

Силуэт _____

Детали _____

Цвет _____

Отделка _____

Ткани _____